

2023(令和5)年度 入学試験問題

東大・医進クラス 2月1日 AM

社 会

注 意

- (1) 指示があるまで表紙を開かないこと。
- (2) 問題および解答用紙の両方に受験番号・座席番号を記入すること。
- (3) 声を出して読まないこと。
- (4) 解答用紙の受験番号欄は、以下のように1マスに1つずつ数字を記入してください。

受験番号	1	2	3	4	5
------	---	---	---	---	---

- (5) 解答は解答用紙の所定の欄に記入すること。

受験番号	<input type="text"/>	<input type="text"/>	<input type="text"/>	<input type="text"/>	<input type="text"/>
座席番号	<input type="text"/>				

1

以下の文章を読んで、後の問いに答えなさい。

- A この県は、日本有数の豪雪地帯ごうせつにあり、米どころでもあります。長さでは日本一の（①）川などによって運ばれた②土砂たいせきが堆積して、越後平野を形成しました。また、1年間に数回③フェーン現象が発生することがあります。工業は、石油化学工業や金属工業が中心ですが、洋食器や刃物などの地場産業もさかんです。
- B この県は、米作りがさかんで、夏に竿燈まつりかんとうが行われることでも有名です。県内を流れる米代川の流域は、日本三大美林の1つである（④）林があり、林業がさかんです。また、⑤隣接する県との間にまたがっている山地は、世界自然遺産に登録されています。
- C この県は、3つの県と接していて、西部から北部にかけては海に面しています。県の沿岸部は丘陵地きゅうりょうちが広がり、（⑥）の栽培さいばいがさかんです。県庁所在地には道後温泉があり、多くの観光客が訪れています。また、県の北部には今治市が位置し、⑦せんい製品を生産する工場が多くあります。
- D この県は、4つの半島と、対馬や五島列島をはじめとする多くの島々からなっています。そして、島の数は日本一であり、海岸線の長さは全国2位です。県庁所在地は、古くから造船の町として知られ、造船所を中心に多くの関連工場があります。また、美しい町並み、歴史的建造物、名所などが数多くあり、観光業もさかんです。
- E この県は、周囲が海に面していない内陸部に位置しています。県庁所在地は、いくつかの都市が合併してつぐられ、2003年に政令指定都市になりました。また、⑧近郊農業せつかいせきがさかんで、ねぎやほうれんそうなどの生産量は全国有数です。県西部の秩父市では石灰石が多く産出され、セメント工業が発達しています。

問1 (①) にあてはまる名前を漢字で答えなさい。

問2 下線部②について、土砂が堆積してできる地形の1つに三角州があります。三角州の特徴を説明した以下の文A・Bについて、その正誤（正しい、誤っている）の組み合わせとして正しいものを、次のア～エから1つ選び、記号で答えなさい。

A 川の流れが急なところに形成されます。

B 水はけが悪いため、水田として利用されることが多いです。

ア A 正しい B 正しい イ A 正しい B 誤っている

ウ A 誤っている B 正しい エ A 誤っている B 誤っている

問3 下線部③について、この現象がおきる時にふいている風の説明として正しいものを、次のア～エから1つ選び、記号で答えなさい。

ア 海から平地へふく^{しめ}湿った冷たい風

イ 海から平地へふく^{かわ}乾いた暖かい風

ウ 山地から平地へふきおりの湿った冷たい風

エ 山地から平地へふきおりの乾いた暖かい風

問4 (④) にあてはまるものを次のア～エから1つ選び、記号で答えなさい。

ア ぶな イ すぎ ウ ひのき エ ひば

問5 下線部⑤について、1993年、この山地と同時に世界自然遺産に登録されたところを、次のア～エから1つ選び、記号で答えなさい。

ア 屋久島 イ 沖ノ島 ウ 紀伊半島 エ 渥美半島

問6 以下の表は、日本国内における4つのくだもの生産割合上位5位（2020年）までの都道府県を示したものです。（⑥）にあてはまるくだもの生産割合を示したものを次のア～エから1つ選び、記号で答えなさい。

ア		イ		ウ		エ	
	生産割合 (%)		生産割合 (%)		生産割合 (%)		生産割合 (%)
和歌山県	21.0	山梨県	30.7	和歌山県	21.8	千葉県	10.7
奈良県	14.3	福島県	23.1	静岡県	15.6	長野県	8.0
福岡県	7.6	長野県	10.4	愛媛県	14.7	茨城県	7.9
岐阜県	6.1	山形県	8.6	熊本県	10.8	福島県	7.6
愛知県	5.7	和歌山県	6.7	長崎県	6.2	栃木県	6.6
全 国	100.0	全 国	100.0	全 国	100.0	全 国	100.0

（『日本国勢図会 2022/23』より作成）

問7 下線部⑦について、今治市で生産されている、あるせんい製品の生産量は日本一をほこります。このせんい製品の名前を答えなさい。

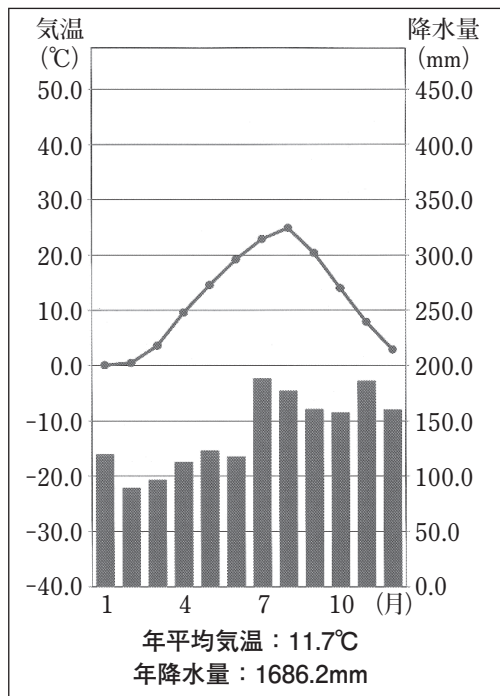
問8 下線部⑧はどのような農業ですか。以下の語句を使って解答欄からはみ出ないように答えなさい。

大都市

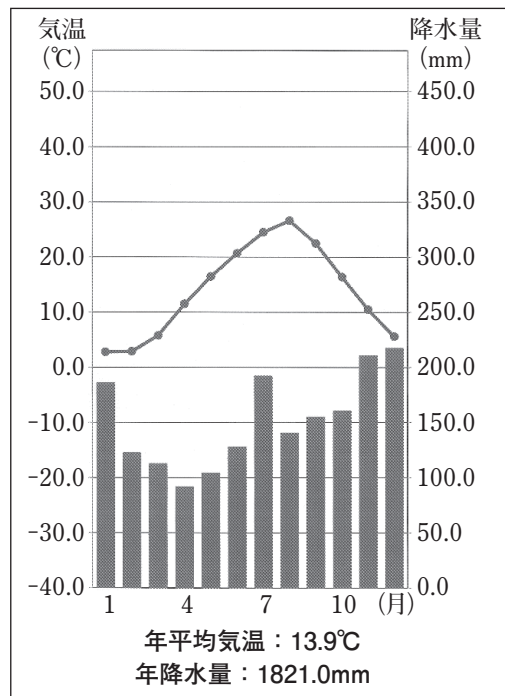
問9 A～Eの文章で説明されている5つの県のうち、昨年9月に新幹線が開業した県が1つあります。その県をA～Eから1つ選び、記号で答えなさい。

問10 以下の雨温図は、A～Dの文章で説明されている4つの県の県庁所在地のものです。Dの県の県庁所在地のものを次のア～エから1つ選び、記号で答えなさい。

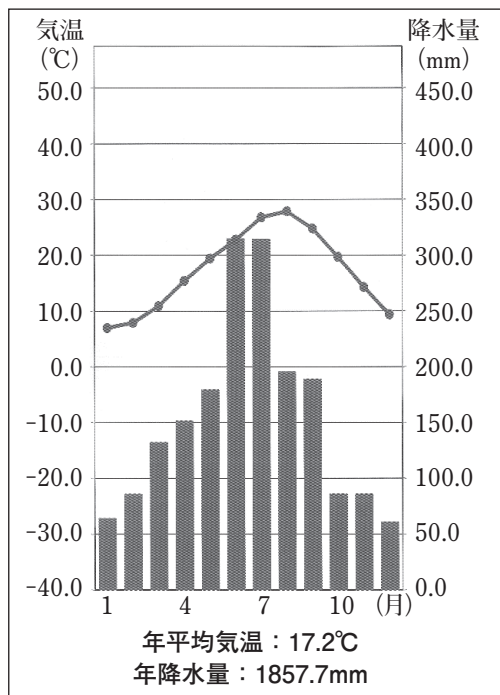
ア



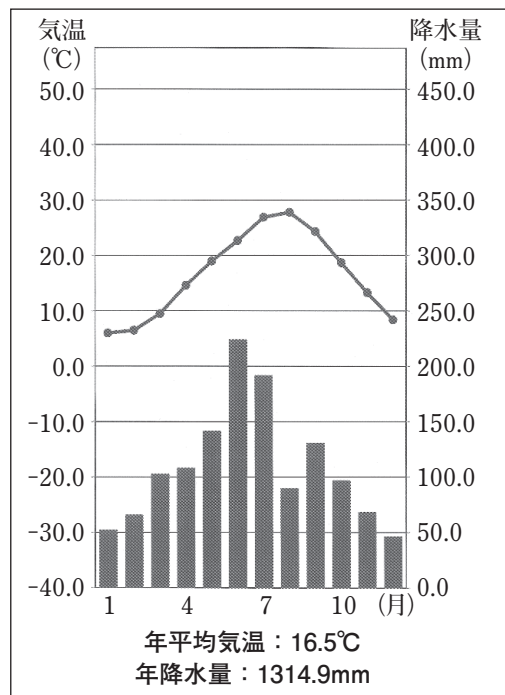
イ



ウ



エ



(『理科年表 2021』より作成)

2

以下の文章を読んで、後の問いに答えなさい。

人類の戦いの歴史は古く、紀元前1万年よりも前にさかのぼるといふ研究もあります。それから現在にいたるまで、戦いは無くなることなく、相手を倒すための兵器や戦いのしくみが次々と生み出されてきました。そして戦いに関わる人々も時代によって変わってきました。

日本列島での戦いのようすが最初に記録されたのは①中国の歴史書でした。ここには2世紀末、当時「倭」とよばれていた日本列島には30あまりの国々があり、たがいに争っていたことが書かれています。この時代には、剣や弓を持った兵が歩いたり走ったりしながら戦っていましたが、②古墳時代になると馬に乗って戦う兵があらわれました。その後成立した③律令国家は、弓と馬が得意な者を取り立てると定めており、馬に乗りながら弓矢を使う戦い方は、中世の武士に受け継がれていきました。平安時代や鎌倉時代では、弓と馬を使う武士どうしの一騎打ち（一対一の戦い）が戦いの中心で、④蒙古襲来を描いた絵巻物からは、そうした戦いを試みた当時の武士の姿をうかがうことができます。

南北朝時代以降になると、集団戦法がとられるようになり、槍を使う兵の役割が高まりました。槍は、突くだけの武器なので、あまり訓練されていない兵でも簡単にあつかうことができ、⑤足軽とよばれる身軽な兵も登場しました。戦いにおける足軽の役割を大きく変えたのが、16世紀半ばにポルトガル人が伝えた（⑥）です。長篠の戦いでみられたように、足軽が集団で（⑥）を使うことで、敵に大打撃をあたえることが可能になったのです。（⑥）を大量に手に入れ効果的に使った織田信長、豊臣秀吉、そして徳川家康は、その強大な軍事力を用いて天下統一をおし進めていきました。

戦国時代が終わって⑦江戸時代になると、身分をもとにした社会ができあがり、戦うことは武士だけのものとなりました。しかし、⑧明治時代になると、新政府は西洋にならって徴兵制を取り入れて、満20歳以上の男性はみな兵役の義務を負うことになりました。その後、⑨第二次世界大戦では、国民がみな戦争に関わるようになりました。例えば、戦争に出かけていった男性に代わって、工場では女性や生徒が武器などを作りました。そのため、この大戦では、戦場の兵士だけではなく、工場にいた人々をはじめ一般の市民までもが空襲などの攻撃の対象となりました。その結果、戦争によって命を落とす人がそれまでとは比べものにならないくらい多くなりました。

今、世界には1発で数百万もの人々を殺せる⑩核兵器が数多くあります。また、ミサイルやドローンなどを使って、離れたところから簡単に敵を殺せるしくみも生まれています。そして、戦争によって命や日常生活を奪われる人々も後をたちません。こうした現実に歯止めをかけるため、私たちには「平和を心につちかう」ことが求められています。

問1 下線部①について、中国の歴史書に書かれている内容を記した以下の文A～Cを、古いものから時代順に正しくならべたものを次のア～カから1つ選び、記号で答えなさい。

- A 楽浪郡らくろうぐんの海のかなたに倭人が住んでいて、100あまりの国に分かれています。
- B 倭の奴国が中国に使いをおくってきたので、皇帝こうていが金印を授けました。
- C 邪馬台国の卑弥呼は、まじないによって30ほどの国を治めていました。

- ア A－B－C イ A－C－B ウ B－A－C
エ B－C－A オ C－A－B カ C－B－A

問2 下線部②について、なぜ、この時代に馬に乗って戦う兵が登場したと考えられますか。下の2つの手がかりをふまえて、解答欄からはみ出ないように答えなさい。

手がかり1

弥生時代、日本には牛・馬・羊などの動物はいなかったといわれています。

手がかり2

日本の古墳で発見された馬具（馬を操るための道具）と同じ系統のものと考えられる馬具が、朝鮮半島でも見つかっています。

問3 下線部③について、律令国家の政治のしくみを説明した以下の文A・Bについて、その正誤（正しい、誤っている）の組み合わせとして正しいものを、次のア～エから1つ選び、記号で答えなさい。


A 検地帳に登録された農民は、土地の所有を認められた代わりに、石高に応じて年貢を納めることになりました。

B 天皇を頂点として、太政官が政策を決め、その下にある8つの省が実施するしくみが定められました。

ア A 正しい B 正しい イ A 正しい B 誤っている

ウ A 誤っている B 正しい エ A 誤っている B 誤っている

問4 下線部④について、下の2つの絵は蒙古襲来^{もうこしゅうらい}の様子を描いた『蒙古襲来絵詞』^{えいし}の一部です。これらの絵を説明した以下の文A・Bについて、その正誤（正しい、誤っている）の組み合わせとして正しいものを、次のア～エから1つ選び、記号で答えなさい。



A 絵1からは、元軍が「てつほう」という火薬を用いた兵器を使っていたことがわかります。

B 絵2は、文永の役の様子を描いたものであることがわかります。

- ア A 正しい B 正しい イ A 正しい B 誤っている
 ウ A 誤っている B 正しい エ A 誤っている B 誤っている

問5 下線部⑤について、下の資料は足軽が活躍した、ある戦いのようすを記したものです。この戦いの名前を次のア～エから1つ選び、記号で答えなさい。

5月26日、細川方から山名の屋敷への襲撃がおこなわれ、両者は全面对決した。細川方、山名方についた大名の屋敷をはじめとして、京都はまたたく間に戦火につつまれてしまった。

ア 保元の乱 イ 承久の乱 ウ 島原の乱 エ 応仁の乱

問6 (⑥) にあてはまる語句を漢字2字で答えなさい。

問7 下線部⑦について、この時代のようにすを説明した文としてまちがっているものを、次のア～エから1つ選び、記号で答えなさい。

ア 草や木の灰を用いた肥料の利用や、米と麦などの二毛作がはじまり、同じ面積の土地から多くの収穫がえられるようになりました。

イ 「天下の台所」といわれた大阪には蔵屋敷がおかれ、全国から集められた年貢米や特産品が運びこまれました。

ウ 町人や百姓の間で教育がさかんになり、各地につくられた寺子屋では「読み・書き・そろばん」が学ばれました。

エ 働き手を工場に集め、分業によって製品をつくらせる工場制手工業によって、綿織物や絹織物が作られました。

問8 下線部⑧について、この時代のできごとを説明した以下の文A～Dについて、正しいものの組み合わせを次のア～エから1つ選び、記号で答えなさい。

A 教育基本法を制定して、6歳以上の子どもに教育を受けさせることを国民の義務としました。

B 地租改正をおこない、土地の所有者に地価を基準とした税を現金で納めさせました。

C ちょんまげを切り落とし、洋服を着て靴をはくなど西洋の文化や生活様式が取り入れられました。

D 産業の発展にともなって、バスの車掌や電話の交換手などとして働く女性が増えました。

ア A・C イ A・D ウ B・C エ B・D

問9 下線部⑨について、この大戦中のできごとを説明した以下の文A～Cを、古いものから時代順に正しくならべたものを次のア～カから1つ選び、記号で答えなさい。

A ソ連がアメリカやイギリスとの協定にもとづいて、日本に宣戦しました。

B 日本がハワイの真珠湾にあるアメリカ海軍基地を攻撃しました。

C ドイツがポーランドに侵攻したことがきっかけで、イギリスとフランスはドイツに宣戦しました。

ア A-B-C イ A-C-B ウ B-A-C

エ B-C-A オ C-A-B カ C-B-A

問10 下線部⑩について、核兵器に関するできごとを説明した文としてまちがっているものを、次のア～エから1つ選び、記号で答えなさい。

ア 第二次世界大戦の末期に、広島と長崎に原子爆弾が投下され、おおぜいの人々が犠牲になりました。

イ 朝鮮戦争では、アメリカ軍を中心とする国連軍が、韓国を支援するために原子爆弾を使用しました。

ウ アメリカの水爆実験にまきこまれ、第五福竜丸が「死の灰」を浴びました。

エ 「核兵器を持たず、作らず、持ち込ませず」という非核三原則が、日本の国会で決議されました。

3

以下の文章を読んで、後の問いに答えなさい。

1945年の終戦から、時代は昭和、平成、令和と変わってきました。しかし、この間全く変わらなかったものがあります。それが日本国憲法です。日本国憲法は、連合国軍の総司令部（GHQ）が日本政府に示した案をもとに作られ、1946年に公布され、①翌年施行されました。それ以降、現在にいたるまで一度も改正されたことはありません。

憲法は国の最高法規であり、基本的人権を守るための原則や、国の組織である②国会、内閣、裁判所などのしくみが定められています。憲法は国が守るべきルールであって、すべての政治は憲法にもとづいておこなわれなければなりません。

さて、日本国憲法の三大原則をみなさんは知っていますか。1つ目は基本的人権の尊重です。日本国憲法では、基本的人権が「侵すことのできない永久の権利」と定められ、自由権・平等権・③社会権・参政権など多くの権利が保障されています。2つ目は国民主権です。大日本帝国憲法では、主権は（④－A）にありました。しかし、日本国憲法は、前文や第1条で主権が国民にあると定めています。最後は⑤平和主義です。憲法前文は平和主義の決意が示され、第9条には、決して戦争をしないことや、そのために（④－B）を持たないことなどが定められています。

問1 下線部①について、日本国憲法が施行された月日を答えなさい。

問2 下線部②に関する文としてまちがっているものを、次のア～エから1つ選び、記号で答えなさい。

ア 法律案を国会に提出できるのは、内閣だけであり、必ず衆議院に提出しなければなりません。

イ 内閣は、最高裁判所の長官を指名し、長官以外の裁判官を任命します。

ウ 裁判所は、国会が制定した法律が、憲法に違反していないかどうかを判断する権限をもっています。

エ 予算は、内閣が作成した予算案を、国会が議決することで成立します。

問3 下線部③にあてはまらない権利を、次のア～エから1つ選び、記号で答えなさい。

ア 生存権

イ 自分が望む職業を選ぶ権利

ウ 勤労権

エ 教育を受ける権利

問4 (④－A) と (④－B) にあてはまる語句の組み合わせとして正しいものを、次のア～エから1つ選び、記号で答えなさい。

ア A 首相

B 争議権

イ A 天皇

B 争議権

ウ A 首相

B 戦力

エ A 天皇

B 戦力

問5 下線部⑤に関連して、平和をめざす組織に国際連合がありますが、国際連合の機関の日本語名と、それをあらわしたアルファベットの組み合わせとしてまちがっているものを、次のア～エから1つ選び、記号で答えなさい。

ア 国際労働機関－ILO

イ 世界保健機関－WHO

ウ 国連児童基金－UNESCO

エ 国連貿易開発会議－UNCTAD

解答用紙	2023 (令和5) 年度	社 会 東大・医進クラス 2月1日 AM	受験番号	<input type="text"/>	<input type="text"/>	<input type="text"/>	<input type="text"/>	<input type="text"/>
			座席番号	<input type="text"/>				

得点	<input type="text"/>
----	----------------------

1

問1	<input type="text"/>	川
問2	<input type="text"/>	
問3	<input type="text"/>	
問4	<input type="text"/>	
問5	<input type="text"/>	

問6	<input type="text"/>	
問7	<input type="text"/>	
問8	<input type="text"/>	
問9	<input type="text"/>	<input type="text"/>
問10	<input type="text"/>	<input type="text"/>

2

問1	<input type="text"/>
問2	<input type="text"/>
問3	<input type="text"/>
問4	<input type="text"/>

問5	<input type="text"/>
問6	<input type="text"/>
問7	<input type="text"/>
問8	<input type="text"/>
問9	<input type="text"/>
問10	<input type="text"/>

<input type="text"/>

3

問1	月	日
問2	<input type="text"/>	
問3	<input type="text"/>	

問4	<input type="text"/>
問5	<input type="text"/>

<input type="text"/>

令和5年度 社会科 東大医進 2月1日 AM 模範解答

1

問1 信濃(川)

問2 ウ

問3 エ

問4 イ

問5 ア

問6 ウ

問7 タオル

問8 大都市の周辺で(新鮮な)野菜や花などをつくる農業

問9 D

問10 ウ

2

問1 ア

問2 朝鮮半島から馬とそれを操る技術が渡来人などによって伝えられたから。

問3 ウ

問4 イ

問5 エ

問6 鉄砲

問7 ア

問8 ウ

問9 カ

問10 イ

3

問1 5月3日

問2 ア

問3 イ

問4 エ

問5 ウ

※各2点